

Шифр участника _____

Задания для обучающихся

Время выполнения заданий – 90 минут

Максимальное количество баллов – 100

Задание 1. Максимальный балл за задание – 10б.

1.1. Как называется пещера, в которой археолог Сатуола с дочерью обнаружили древнейшие рисунки:

- А) Ляско
- Б) Альтамира
- В) Капова пещера
- Г) Комбарель

1.2. Какое занятие возникло из собирательства:

- А) Охота
- Б) Скотоводство
- В) Земледелие
- Г) Рыболовство

1.3. Из какого металла люди научились раньше всего делать орудия труда:

- А) Железо
- Б) Бронза
- В) Алюминий
- Г) Медь

1.4. Какая река, протекающая по территории Индии, считается рекой жизни:

- А) Ганг
- Б) Нил
- В) Хуанхэ
- Г) Тигр

1.5. Какая страна является родиной бумаги, шелка и компаса:

- А) Египет
- Б) Индия
- В) Китай
- Г) Греция

Соответствующие буквы ответов внеси в таблицу.

1.1	1.2	1.3	1.4	1.5

Задание 2. Максимальный балл за задание – 10б.

Установи соответствие между понятиями и их определениями.

1.	Ашшурбанапал	А	Бог солнца и справедливости.
2.	Шамаш	Б	Гробницы египетских фараонов
3.	Жрецы	В	Ассирийский царь, повелевший собрать в своем дворце большую библиотеку
4.	Пирамиды	Г	Высокий тростник в Египте, из которого делали материал для письма
5.	Папирус	Д	Служители богов

Соответствующие буквы ответов внеси в таблицу.

1	2	3	4	5

Задание 3. Максимальный балл за задание – 15б.

По какому принципу образованы ряды?

Афина – Зевс – Гермес _____

Тир - Библ – Сидон _____

Мемфис – Фивы – Ахетатон _____

Брахманы – Кшатрии – Шудры _____

Шамаш – Иштар - Син _____

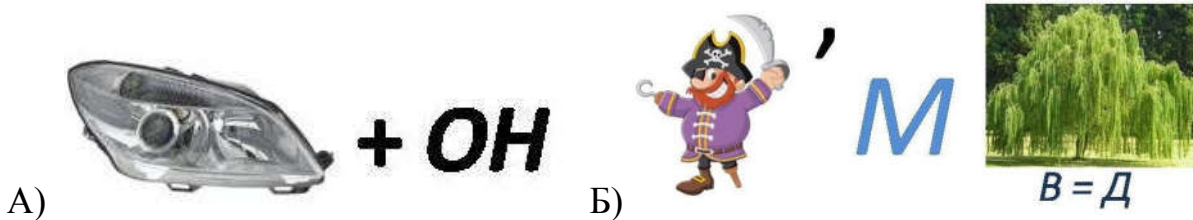
Задание 4. Максимальный балл за задание – 10б.

Установите ложность или правильность данных утверждений.

№	Утверждение	Да/нет
1	Верно ли, что первые люди появились около 2 млн. лет назад в Восточной Австралии	
2	Верно ли, что древнейшим занятием людей было собирательство и охота	
3	Верно ли, что около 40 тыс. лет назад появился человек разумный	
4	Верно ли, что первобытные люди верили, что всё в природе живое и одушевлённое	
5	Верно ли, что люди впервые научились обрабатывать металл около 3 тыс. лет назад в Европе.	

Задание 5. Максимальный балл за задание – 10 б.

Разгадайте ребусы, и запишите ответы



Ответ: _____

Ответ: _____

Задание 6. Установи соответствие между понятиями и их определениями. Максимальный балл за задание – 6 б.

1	Фараон	А	Сплав меди и олова
2	Бронза	Б	Усыпальница царей Египта и членов их семей
3	Шадуф	В	Наименование правителя Древнего Египта
4	Пирамида	Г	Приспособление для полива садов и огородов

Ответ:

1	2	3	4

Задание 7. Максимальный балл за задание – 4б.

7.1. Выберите из списка имена правителей Вавилона:

- А) Кир Великий
- Б) Дарий
- В) Хаммурапи
- Г) Тутмос
- Д) Навуходоносор
- Е) Цинь Шихуанди

7.2. Какие положения были закреплены в законах Хаммурапи:

- А) равноправие
- Б) «око за око, зуб за зуб»

В) гуманизм

Г) отмена рабства

Д) защита подданных от обращения в рабство

Соответствующие буквы ответов внеси в таблицу.

7.1	7.2

Задание 8. Максимальный балл за задание – 5б.

Рассмотрите изображения и ответьте на вопросы:

8.1. Какие виды занятий изображены на рисунках?




А)

Ответ: _____



Б)

Ответ: _____



В)

Ответ: _____

8.2. Каким термином можно объединить данные виды занятий?

Ответ: _____


Задание 9. Максимальный балл за задание – 20б.

Решите кроссворд

По горизонтали: 1. Сплав меди и олова. 4. Письменность Древнего Двуречья.

6. Письменность древних египтян. 9. Материал для письма в Древнем Египте.

По вертикали: 2. Глава племени. 3. Наука, изучающая вещественные памятники истории. 5. Сильный и ловкий раб, которого обучали сражаться на потеху публике в Риме. 7. Человек, который занимается изготовлением сосудов, орудий труда, тканей и т.д. 8. Палка с сучком для занятия земледелием. 10. Царь Египта.



Задание 10. Максимальный балл за задание – 10б.

В 2022 в Омске был установлен памятник, изображенный на фотографии.

Рассмотрите фотографию и ответьте на вопросы:

10.1. Какому историческому деятелю установлен памятник? _____

10.2. Какое отношение к нашему городу имеет данный исторический деятель? _____

Всероссийская олимпиада школьников по истории 5 класс
Школьный этап 2024-2025 учебный год



Общее количество баллов

1	2	3	4	5	6	7	8	9	10	Всего баллов